

1. *Do rámečků pod slovy pište postupně poslední pímeno každého podstatného jména. Dostanete tak tajenku.*

první, vlak, lehce, au, pekař, před, nebo, sloni, věž, letí, dobrá, protože, dvě, Ivo, buch, ať, kdo, pracujeme, lev, teta, ale, kéž, pěšky, nit, vzorně, tank, piš, hop, kráva

Tajenka:

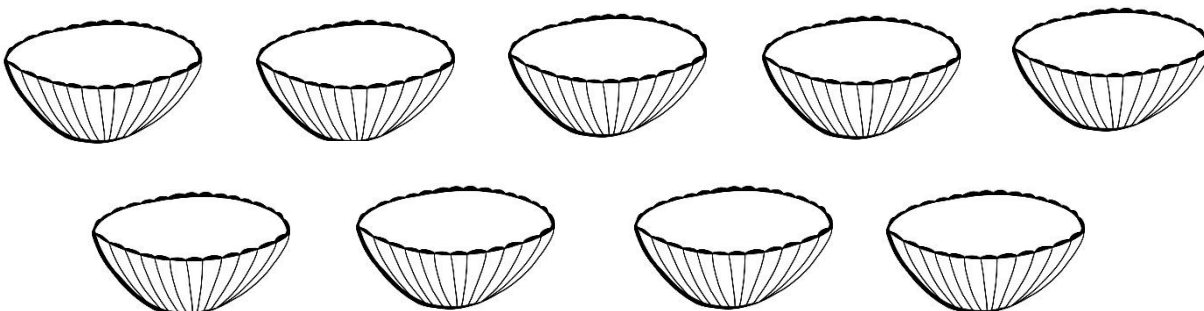
- a) *Všechna podstatná jména zapište do správného sloupce se zájmenem ten, ta, to nebo ti.*

osoba	zvíře	věc

2. Procvič si svou znalost abecedy.

- a) Vezmi si pastelky a polož je vedle sebe tak, aby názvy jejich barev byly seřazeny podle abecedy. Prosím rodiče o kontrolu.
 b) Napiš alespoň 10 názvů věcí, které máš v pokojíčku. Ale pozor, podle abecedy!

3. Zlá macecha přikázala Popelce přebrat a srovnat na polici podle abecedy hrách, čočku, mák, fazole, rýži, proso, kroupy, sůl a vločky. Pomůžeš jí?



Doplň tabulku násobků.



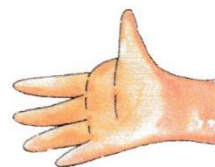
•	1	2	3	4	5	6	7
1							
2							
3							
4							
5							
6							
7							

Slovní úlohy – hádanky

1. Babička dala na stůl talíř koláčů. Tři děti jedly, po třech koláčích snědly a ještě 3 koláče zůstaly na talíři pro toho, kdo hádanku uhodne.




2. Na jedné ruce je 5 prstů. Kolik prstů má na ruce 5 dětí?




3. Maminka řekla: „Martine, tady si vezmi 24 Kč a kup za ně samé čtyřkorunové známky.“ Kolik známek Martin koupí?




4. Myslím si číslo, je to polovina ze 100. Jaké číslo si myslím?



5. Myslím si číslo, které je čtyřnásobkem 5. Které číslo si myslím?



6. Myslím si číslo, deset je v něm třikrát a ještě 5 zbude. Které číslo si myslím?



7. Jedno vejce se uvaří na měkko za 4 minuty. Za kolik minut se na měkko uvaří 3 vejce?

8. Kdo dovede říct „zmrzlá voda“ jedním slovem?

9. Dokážeš doplnit čtverce čísly tak, aby ve všech směrech (v řádcích, sloupcích i po úhlopříčkách) byl součet u čtverce A vždy 75, u B vždy 90, u čtverce C vždy 45 a u čtverce D vždy 60?

A 75

30		40
10		20

B 90

45		35
25		15

C 45

6		12
18		24

D 60

24		8
32		16